

# FORGÓSZÉL

Hon- és népismeret levelező verseny

## 2. forduló

Tél

Név:	Osztály:	Elért pontszám:	Beküldési határidő: 2020. január 6.
Iskola neve, címe:			

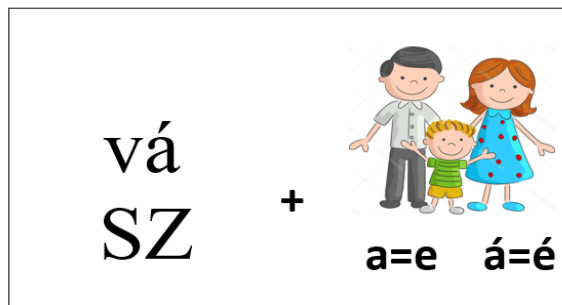

Köszöntünk a Forgószél második fordulóján!

Az előző feladatlap segítségével megismerhetted a mindennapi öltözkéhez szükséges alapanyag, a kendervászon elkészítését.

Most megtudhatod, milyen ruhákat hordtak a hétköznapokon a gazdálkodó családok tagjai.

A magyar parasztasszonyok századokig jellemző fehér vászonöltözetében nemcsak az alsóruha volt vászonból, de a nyári dologidőben hordott felső munkaruha is. A nőknél tovább fennmaradt a vászonruhák viselete, mint a férfiaknál. Ez lehet a magyarázata különleges elnevezésüknek.

1./ Az alábbi képrejtvények megfejtése után írd a nők egykori elnevezését a vonalakra!



Ismerkedjünk meg először a nők alsóruházatával!

Az alsótestet takaró **p**endelyt a gyakori mosás miatt **d**ürvább anyagból szabták. Legegy**s**zerűbb formája egymás mellé varrt vászonszele**t**ekből állt, am**i**t madzaggal deré**k**ban kör**r**ülkötöztek, vagy kor**c**ba fűzött madzaggal összehúzt**a**k. A később elterjedt vállas pendely a szap**o**rodó alsószoknyák sú**l**yát átterhelte **a** vállra.

2./ Írd a képek alá, hogy melyik a korcos pendely és a vállas pendely!



3./ Az előző oldalon lévő szöveg kiemelt betűit összeolvasva megkapod két újabb női ruhadarab nevét. Melyek ez? Írd a vonalra a nevüket! Mindkét vonal alá írd egy-egy olyan szót, amelynek jelentése megegyezik a fölötte lévővel!

---

---

A kötény eltakarta a szoknya elől lévő hasítékát, és munka közben védte a szoknyát a szennyeződéstől. Tájanként sokféle elnevezése ismert.

4./ Nézz utána a Magyar néprajzi lexikonban, hogyan nevezték a kötényt

Göcsejben: \_\_\_\_\_

Ajakon: \_\_\_\_\_

Hogyan nevezik a kötény fő típusait annak alapján, hogy mekkora testfelületet fednek?

---

---

---

Milyen díszítések kerülhetnek a kötény szélére?  
(Hogyan képezhetik ki?)

---

---

---

---



Kötény /szakácska/ - Órhalom

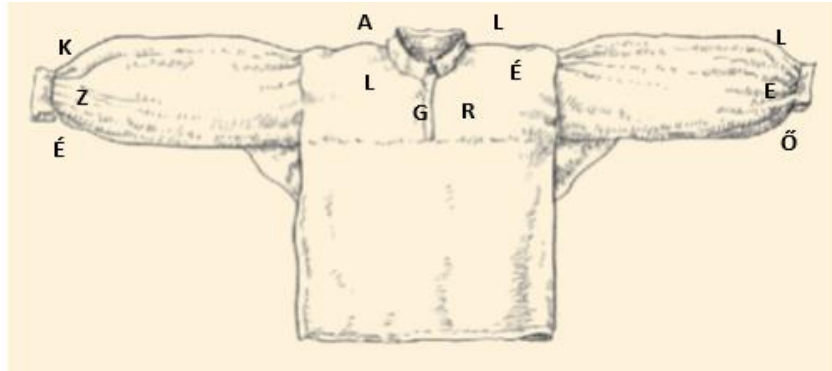
5./ Keresd meg, keretezd be, majd írd a vonalakra az alábbi mondatban rejtőző női ruhadarabok nevét!

A gazda ingatta fejét, amikor meglátta a búzaföldeken dőlő érett gabonát.

---

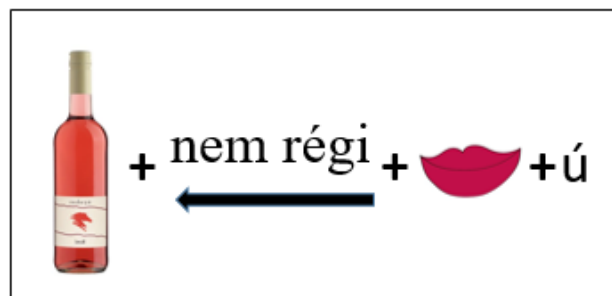
---

A férfiak „fehér öltözete”, inge és gatyája is vászonból készült. Bevarrott ujjú inget viseltek, amelynek legelterjedtebb formája \_\_\_\_\_-ral, \_\_\_\_\_-vel is kiegészült.



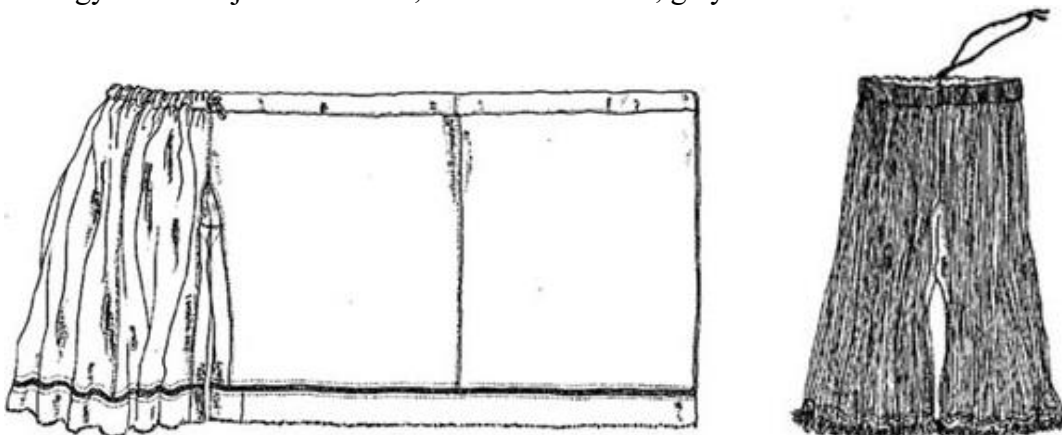
6./ Egészítsd ki a fenti mondatot a képen látható betűkből összeállított szavakkal. (A betűk a megnevezésre váró résznél találhatóak.)

A jellegzetes rövid derekú, a hasat is szabadon hagyó ing a pásztorok öltözeteként maradt meg legtovább. A nevét az alábbi képrejtvényből olvashatod ki.

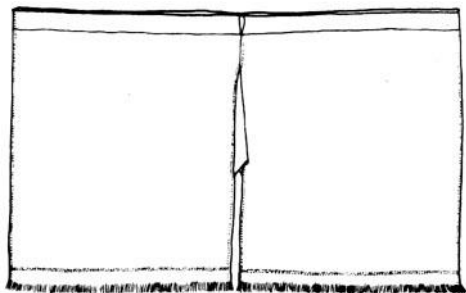


Megfejtés: \_\_\_\_\_

A magyar férfiak jellemzően bő, ráncolt lábravalót, gatyát viseltek.



Megnevezése utalt a bőségére. Egy négyszéles gatyába négyszer varrták össze a szövőszéken készült vászonszélességet (kb. 70 cm) a megfelelő hosszúságra leszabva. Majd ezt ráncolták össze.




Megoldás: \_\_\_\_\_

7./ Számold ki, hogy hány méter vászon kellett egy 120 cm hosszú, hatszeles ráncolt bő gatyá elkészítéséhez! A rajz melletti keretben végezheted a számításaidat!

8./ Az alábbi betűrácsban egy népdal szövege rejtőzik. Ha megtaláltad, írd le a vonalakra!

H	E	J	R	O	Z	M	A	R	I
Ó	L	A	M	A	Z	I	N	G	N
R	E	S	E	M	K	I	M	V	G
T	V	Z	I	N	G	E	E	A	R
D	D	A				M	G	N	O
A	E	A	J	R	R	A	V	M	Z
K	K	M	E	K	É	N	R	Á	M
A	Z	S	E	L	G	N	I	R	A

---



---



---



---

9./ Készíts rajzot egy külön A/4-es lapon, amelyen egy nő és egy férfi látható vászonruházatban! Jelenítsd meg rajtuk azokat a ruhadarabokat, amelyekkel a feladatokban találkoztál!